

બુધવાર

દ્વિતીય સત્રાંત પરીક્ષા - ૨૦૨૦

વિષય : ગણિત

સિ.કે.જી.

૨૫, ૦૫, ૬
વર્ગ :

SR KG Maths : 1/2

કુલ ગુણ : ૪૦

સમય : ૨ કલાક

બેઠક નં.:

તારીખ : ૧૮/૦૩/૨૦
વાર :
નામ :

નિરીક્ષકની સહી :

પ્રશ્ન ક્રમાંક	૧	૨	૩	૪	કુલ
કુલ ગુણ	૧૦	૧૦	૧૦	૧૦	૪૦
મેળવેલ ગુણ					

પરીક્ષકની સહી :

પ્ર.૧(અ) અંકોની ખાનાપૂર્તિ કરો.

(૦૫)

૨૨	૨૩	૨૪	૨૫	૨૬	૨૭
૨૮	૨૯	૩૦	૩૧	૩૨	૩૩

પ્ર.૧(બ) અંકોને ક્રમમાં ગોઠવો.

(૦૫)

૪૧	૪૭	૫૦	૪૨	૪૬	૪૯	૪૮	૪૩	૪૫	૪૪
૪૧	૪૨	૪૩	૪૪	૪૫	૪૬	૪૭	૪૮	૪૯	૫૦

પ્ર.૨(અ) નાના અંકોની નીચેના માં ✓ કરો.

(૦૫)

૧૮	૪૮	૧૪	૪૦	૩૦	૪૦	૧૬	૪	૫૦	૪૫
<input checked="" type="checkbox"/>	<input type="checkbox"/>	<input checked="" type="checkbox"/>	<input type="checkbox"/>	<input checked="" type="checkbox"/>	<input type="checkbox"/>	<input type="checkbox"/>	<input checked="" type="checkbox"/>	<input type="checkbox"/>	<input checked="" type="checkbox"/>

પ્ર.૨(બ) પાછળની સંખ્યા લખો.

(૦૫)

૧૯	૨૦	૩૧	૩૨	૨૭	૨૮
૯	૧૦	૪૮	૪૯		

પ્ર.૩(અ) આગળની સંખ્યા લખો.

(૦૫)

૨૯	૩૦	૨૦	૨૧	૪	૫
૪૯	૫૦	૧૦	૧૧		





પ્ર.૩(બ) નીચેના અંકોને શબ્દોમાં લખો.

(૦૫)

૪	ચાર	૧૧	અગિયાર
૧૯	અગાધીસ	૧૬	સોળ
૯	નવ		

પ્ર.૪(અ) સરવાળા કરો.

(૦૫)

	+		=	૧૦
	+		=	૩

પ્ર.૪(બ) હલકી વસ્તુની નીચેના માં ✓ અને

ભારે ચિત્રની નીચેના માં ✗ નિશાની કરો.

(૦૫)

			
<input checked="" type="checkbox"/>	<input type="checkbox"/>	<input type="checkbox"/>	<input checked="" type="checkbox"/>